

Sezione 2

Conoscenze e competenze acquisite negli studi superiori

1) “In Europa nel cinquantennio tra _____ si sviluppa _____ come movimento artistico, musicale, culturale e letterario; tra i momenti fondamentali la fondazione della rivista *Athenaeum*, creata dal filosofo Adolf Schlegel insieme al fratello Wilhelm ed al poeta Novalis e le opere di Goya, Delacroix, Gericault, Turner, Hector Berlioz, Robert Schumann, Fryderyk Chopin, Johannes Brahms, Felix Mendelssohn, le prime istanze risorgimentali, alle quali risulterà strettamente legata la produzione italiana legata al movimento. Esempio fu in proposito la figura di Alessandro Manzoni, che diede un impulso fondamentale alla diffusione del genere letterario del romanzo storico.”

Quale delle seguenti coppie di date e termini può essere integrata nella lacuna?

- A) 1770 e 1820 – il Romanticismo
- B) 1600 e 1650 – il Decadentismo
- C) 1700 e 1750 – l'Illuminismo
- D) 1850 e 1900 – il Neoclassicismo
- E) 1900 e 1950 - il Simbolismo

2) “Vi sono in ogni Stato tre specie di poteri: il potere legislativo, il potere esecutivo delle cose che dipendono dal diritto delle genti, ed il potere esecutivo delle cose che dipendono dal diritto civile.

(...)

Quando nella stessa persona o nello stesso corpo di magistratura, il potere legislativo è unito al potere esecutivo, non esiste libertà; perché si può temere che lo stesso monarca o lo stesso senato facciano delle leggi tiranniche per eseguirle tirannicamente.” (Montesquieu, *Lo spirito delle leggi*, 1748, cap. X)

La dottrina della separazione dei poteri dello Stato (legislativo, esecutivo, giudiziario) nasce in epoca:

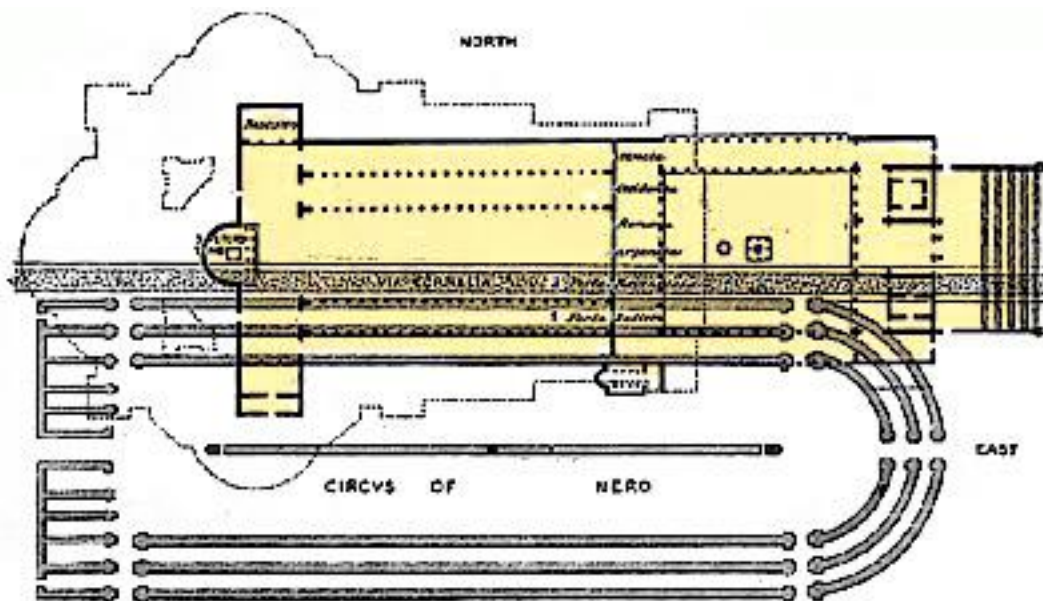
- A) Antica, grazie al diritto romano
- B) Medievale, all'interno dei Comuni
- C) Medievale, all'interno del Sacro Romano Impero
- D) Moderna, fra i pensatori illuministi
- E) Contemporanea, dopo la presa di coscienza delle tragedie umane provocate dai regimi totalitari

3) “Chiamatemi Ismaele. Qualche anno fa, non importa quanto di preciso, denaro in tasca poco o niente, e nulla di speciale a trattenermi a terra, pensai di viaggiare un po’ per mare e di vedere la parte acquatica del mondo. È il mio modo di combattere la malinconia e di controllare la circolazione.” (H. Melville, *Moby Dick*)

Da questo incipit ricaviamo almeno una indicazione, individua quella corretta tra le seguenti:

- A) Il nome autorevole del ragazzo protagonista e narratore reca un’allusione biblica
- B) Il nome autorevole del ragazzo protagonista e narratore allude a una specifica professione
- C) Il nome autorevole del ragazzo protagonista e narratore allude a un personaggio del teatro
- D) Il nome autorevole del ragazzo protagonista e narratore allude a una sessualità non definita
- E) Il nome autorevole del ragazzo protagonista e narratore allude a un’appartenenza geografica

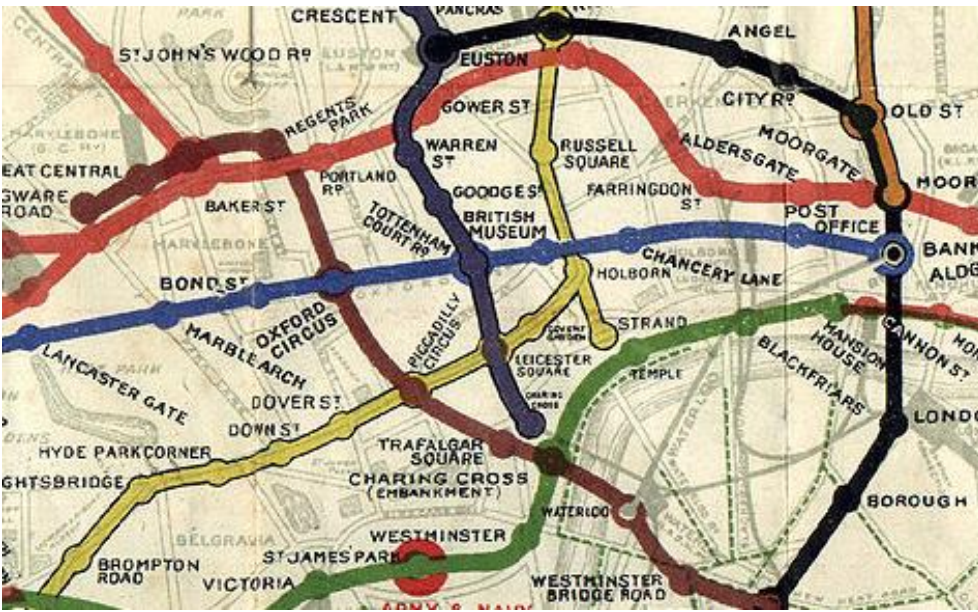
4) La basilica di San Pietro fu costruita sulla presunta sepoltura dell'apostolo Pietro nella vasta necropoli vaticana, rimasta in uso dal II al IV sec., sorta ai margini del circo di Caligola (o di Nerone), e ai piedi del colle Vaticano. La costruzione di S. Pietro fu ordinata dall'imperatore Costantino, e fu realizzata tra il 318 e il 322, e si impiegarono circa 30 anni per completarla. La sua struttura ci è nota da fonti iconografiche (disegni, affreschi), letterarie (come le descrizioni di Onofrio Panvinio, Tiberio Alfarano e Giacomo Grimaldi) nonché da scavi archeologici.



Osserva la pianta, l'area colorata in giallo indica:

- A) un antico tempio pagano
- B) l'attuale basilica di san Pietro a Roma
- C) il circo di Caligola e Nerone
- D) la necropoli vaticana
- E) la primitiva basilica edificata da Costantino

5) Confronta queste due immagini di Londra e scegli tra le seguenti l'affermazione più corretta:



- A) La seconda immagine non è una mappa, ma è un'opera d'arte di Piet Mondrian.
- B) La prima immagine non è una mappa, ma è un disegno di fantasia prodotto per la copertina di un disco dei Beatles.
- C) Le due immagini non sono relative alla stessa area geografica, ma rappresentano due aree della città di Londra molto lontane tra loro.
- D) Nella prima immagine le linee curve rappresentano i canali navigabili di Londra e non le linee della metropolitana.
- E) Entrambe illustrano la stessa area di Londra, ma con modalità di rappresentazione e finalità diverse.

6) Con riferimento alla struttura dello Stato, l'espressione "divisione dei poteri", si riferisce a:

- A) spartizione dei poteri fra diversi territori dello Stato.
- B) suddivisione di poteri fra diverse Nazioni appartenenti a una organizzazione politica o a una confederazione internazionale.
- C) attribuzione di ciascuno dei tre poteri dello Stato a un organismo distinto e indipendente dagli altri.
- D) attribuzione delle funzioni tra i diversi uffici amministrativi dello Stato.
- E) divisione dei poteri tra i differenti partiti politici che fanno parte di un governo.

7) Indica a quale tipologia appartengono i seguenti tre diritti:

- 1) diritto di manifestare liberamente il proprio pensiero;
- 2) diritto di professare liberamente la propria fede religiosa;
- 3) libertà di circolazione e di soggiorno.

- A) diritti civili
- B) diritti politici
- C) diritti etico-sociali
- D) diritti economici
- E) diritti privati

8) Completa il seguente testo con la serie di termini o espressioni corrette:

“La condizione _____ dello straniero è regolata dalla legge in conformità delle norme e dei trattati internazionali. Lo straniero, al quale sia impedito nel suo paese l'effettivo _____ delle libertà democratiche garantite dalla Costituzione italiana, ha diritto _____ nel territorio della Repubblica, secondo le condizioni stabilite dalla legge.” (*Costituzione della Repubblica italiana*, art. 10)

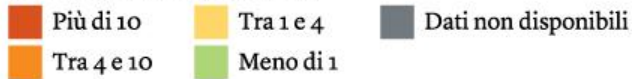
- A) politica, utilizzo, di libera circolazione
- B) sociale, appagamento, di voto
- C) giuridica, esercizio, d'asilo
- D) economica, godimento, di cittadinanza
- E) familiare, uso, di matrimonio

9) Osserva la mappa e individua quale delle affermazioni che seguono è quella corretta:

Potenze inquinanti

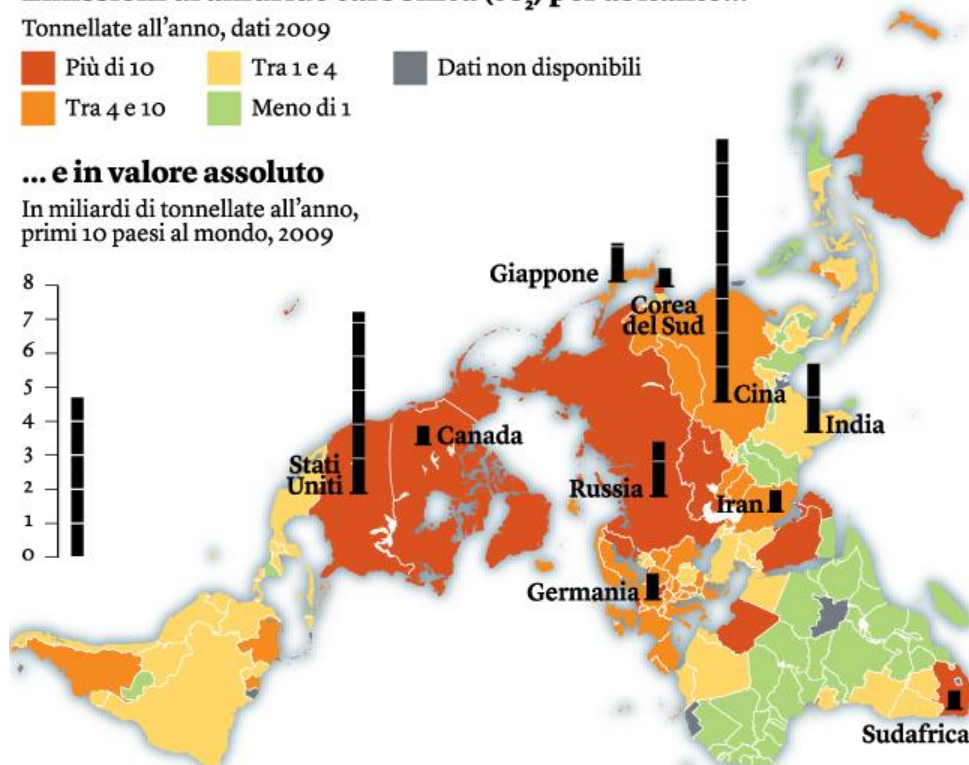

Emissioni di anidride carbonica (CO₂) per abitante...

Tonnellate all'anno, dati 2009



... e in valore assoluto

In miliardi di tonnellate all'anno, primi 10 paesi al mondo, 2009



Fonte : Banca Mondiale.

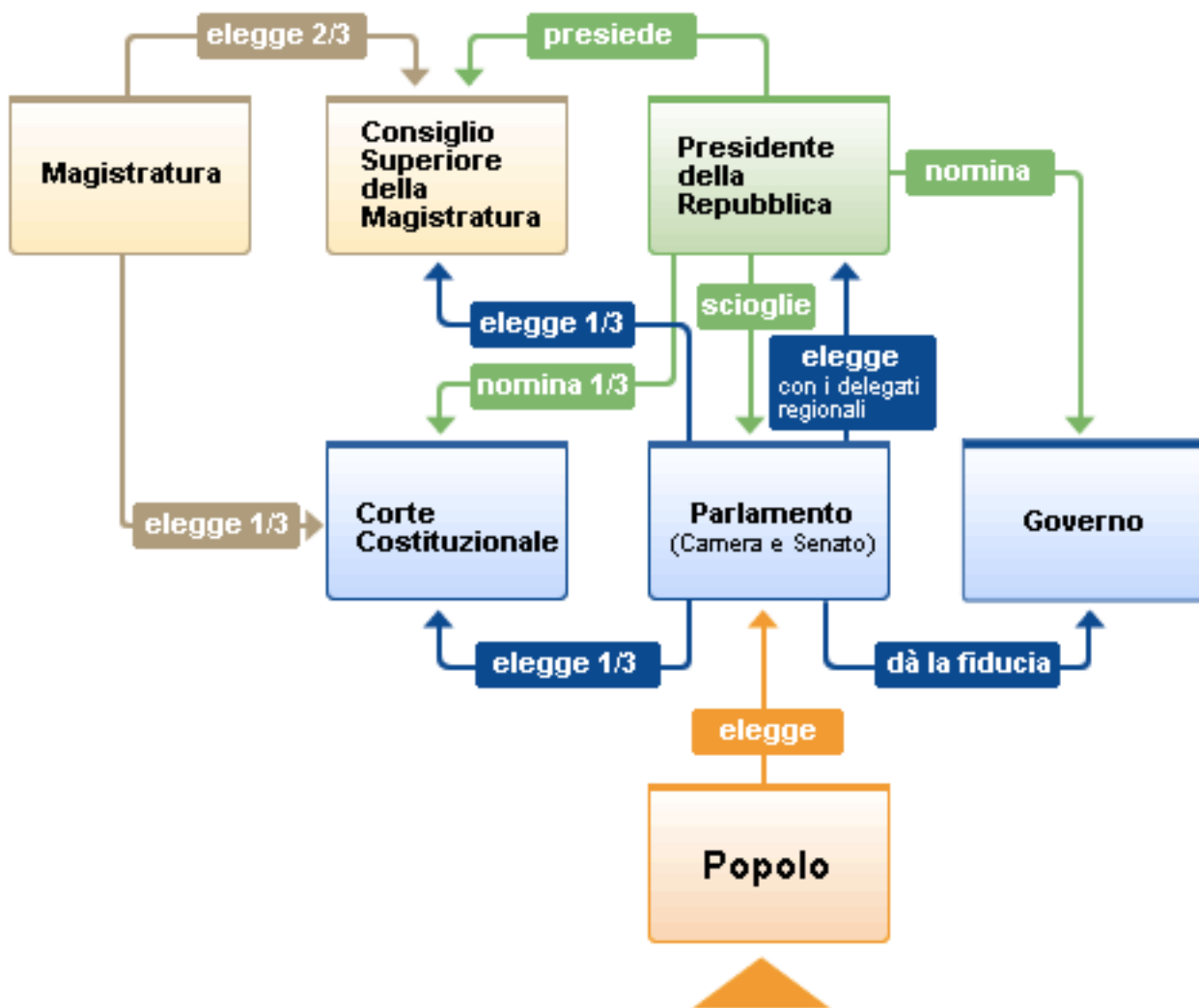
DARIO INGIUSTO E FRANCESCO GASTALDON/CARTOGRAFARE IL PRESENTE, 2013

- A) La Cina è il Paese che presenta la maggiore quantità di emissioni di CO₂ pro capite e in valore assoluto.
- B) Gli USA sono il Paese che presenta la maggiore quantità di emissioni di CO₂ in valore assoluto.
- C) L'India è il Paese che presenta la maggiore quantità di emissioni di CO₂ in valore assoluto anche se le emissioni pro-capite sono inferiori a quelle della Cina.
- D) La Cina è il Paese che presenta la maggiore quantità di emissioni di CO₂ pro capite.
- E) La Cina è il Paese che presenta la maggiore quantità di emissioni di CO₂ in valore assoluto anche se le emissioni pro-capite sono inferiori a quelle degli USA.

10) Osserva il seguente diagramma in cui viene visualizzato in modo sintetico l'assetto costituzionale della Repubblica Italiana.

(da: <http://www.camera.it/leg17/391?conoscerelacamera=9>)

IL PARLAMENTO NEL DISEGNO DELLA COSTITUZIONE



Scegli tra le seguenti didascalie quella che descrive correttamente, seppur in modo parziale, quanto rappresentato nel grafico:

- A) Il Parlamento, insieme ai delegati regionali, elegge il Presidente della Repubblica.
- B) La Corte costituzionale concede e revoca la fiducia al Governo.
- C) Il Presidente della Repubblica nomina tutti i membri della Corte Costituzionale.
- D) La Magistratura svolge funzioni di controllo sul Parlamento e sul Governo e concorre all'elezione del Presidente della Repubblica.
- E) La sovranità appartiene al popolo che elegge anche parte della Corte Costituzionale.